


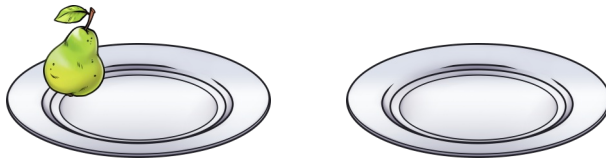
Verteilen

1

Verteile gerecht!




1	0	:	2	=	
---	---	---	---	---	--

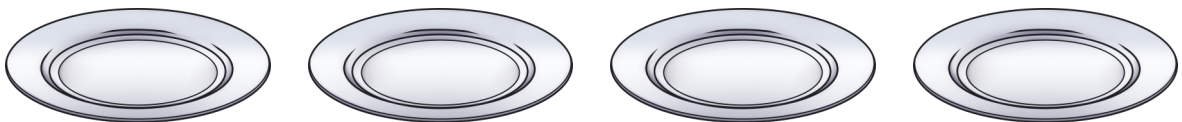


Wie viele Birnen bekommt jeder?
Jeder bekommt ____ Birnen.

2




1	6	:	4	=	
---	---	---	---	---	--



Wie viele Äpfel bekommt jeder?
Jeder bekommt ____ Äpfel.

3



	8	:	2	=	
--	---	---	---	---	--



Wie viele Bananen bekommt jeder?
Jeder bekommt ____ Bananen.